



池上曾根弥生学習館

ワークシート



	年	組
名前		



「ひきだし」をあけてしらべよう ©



池上曾根いせきからは
()つぼが
2000コいじょうも、
みつかっています。



弥生時代の食べ物は
お米のほかに、ドングリ
などの木の實を、石皿とすり
石で()にし、それをまる
めて焼いて食べるものなども
ありました。



弥生時代のいっぱん
の人々の衣服は、
カラムシやタイマなど、
みづかにある()繊維を
使ったおり布で、作られてい
ました。



石器になる石は、こ
のあたりにはない石を持
ってきて使っています。
たとえば矢じりの多くは
二上山でとれる()
を使っています。



「ひきだし」をあけてしらべよう ②

池上曽根いせきからは
海の生物の骨がみつかり
ますが、このひきだしのところ
にあるのは、なんの骨でしょう。
()



池上曽根いせきから
一番多くみつかり
ている動物の
骨は()の骨です。



このような形の土器は
高坏(たかつき)とよばれ
おもに()を盛りつけ
るための土器だったと考えられて
います。



池上曽根からは
ヒガメムシや、コガタノゲ
ンゴロウなど、田んぼや用水路など
にいる()の遺体)が
みつかり
ています。



「ひきだし」をあけてしらべてみよう

池上曾根いせきからは
たくさんの植物の種がみつ
かっていますが、大型たて物の柱の
下から()の種がみつ
かっています。



この甕(かめ)は
たたき板でたたいたあとが見ら
れ、弥生時代の()ご
ろにつくられたと考えられてい
ます。




池上曾根いせきを取り
かこむ()からは、
捨てられた土器や、ウンコにつく
虫などがみつかっているので、ゴ
ミ捨て場やトイレとして利用
されていたようです



石包丁(いしぼうちょう)は、
()のかり取りに
使われました。





てんじ

展示ホールでしらすべよう

?

右の3カ所のうちの西の所では()が石のカケラの中にありました。

?

大型たて物のすぐ南側では、530枚もの()のカケラを集めたものが、3カ所に分けられていました。

?

大型たて物の棟持ち柱むなものあなからは、()のまが玉がみつかりました。

?

この土器片は大型たて物を描いたとされ、よく見るとテラスや(手すり)つきの()などを細かく描いています。


?

大型たて物の南西部あたりには、高熱を受けて()した土器)が3千個もみつかりました。なんでだろう?

どうして大型たて物のまわりには、こうしたモノが見つかるのかな? 考えてみよう



大型たて物の柱はどのようにして埋めて立てられていたのかな? 発掘される順番にそってはくつよく見てみよう



大型たて物の南にあるこの井戸は直径()mの()ノキ)のなかをくりぬいてできています。

* 放送をきこう